

# חיות במשבצות

## המשחק מכיל:

1. לוח חיות במשבצות (הדפס פעם 1).

2. דף דיסקיות ב-5 צבעים (הדפס פעם אחת או יותר בהתאם למספר המשתתפים).

3. קלפי שאלות (המדורגות לפי ערך מספרי).

4. קלפי תשובות

## מהלך המשחק:

1. כל משתתף בוחר צבע דיסקית (אחד או יותר בהתאם למספר המשתתפים).

2. מניחים את לוח החיות במרכז השולחן.

3. מניחים את קלפי השאלות על השולחן מסודרים לפי קטגוריה, כשפניהם כלפי מעלה.

4. כל משתתף בתורו בוחר מתוך לוח החיות את הקטגוריה ואת רמת הקושי שבה הוא רוצה להישאל.

5. מוצאים את הקלף המתאים לפי בחירתו והוא עונה על השאלה. במידה וענה נכון, יניח דיסקית בצבע שלו על הקטגוריה ורמת הקושי שבחר.

במידה ולא ענה נכון, התור עובר למשתתף הבא.

























6. כאשר לוח החיות מכוסה בדיסקיות, סופרים את מספר הנקודות לכל משתתף לפי רמת הקושי המצויינת והדיסקיות המונחות על הלוח.

7. המשתתף שצבר את מספר הנקודות הרב ביותר, הוא המנצח.

# חיות במשבצות

	חרקים	דו חיים	יונקים	עופות	זוחלים
<b>1000</b> נקודות					
<b>700</b> נקודות					
<b>500</b> נקודות					
<b>300</b> נקודות					
<b>200</b> נקודות					
<b>100</b> נקודות					

# ✂ גזור את דיסקיות-תשובה הנכונה.

## ✂ גזור את קלפי השאלות.

### זוחלים (1) 100 נקודות

איזה מהחיות הבאות איננו שייך למחלקת הזוחלים?

- א. צב
- ב. תנין
- ג. נחש
- ד. תולעת
- ה. לטאה



### זוחלים (2) 200 נקודות

אילו מהסוגים הבאים אינו קיים?

- א. חרדון מצוי
- ב. צב המדבר
- ג. צב רגליים
- ד. צב נטוי צוואר
- ה. צפע מצוי
- ו. תנין הביצות



### זוחלים (3) 300 נקודות

איזה מהמשפטים הבאים לגבי אורך חיי הצבים, אינו נכון!

- א. ניתן לקבוע את גילם באמצעות ספירת מגני הקרן.
- ב. מדענים טוענים שהם לא מתים מזקנה וללא פציעה/מחלה הם יכולים לחיות לעד.
- ג. הלובסטר והמדוזה בת האלמוות מתחרה באורך חייהם של הצבים.
- ד. איברי גופם אינם מזדקנים.
- ה. ניתן להעריך את גילם באמצעות טבעות הגדילה שעל שריונם.



### זוחלים (4) 500 נקודות

חרדון מוואנזה החי ברחבי אפריקה, בשעת סכנה...

- א. מטפס על עצים גבוהים.
- ב. מתחבא ויורד אל מתחת לקרקע או אל בין העצים.
- ג. מפריש ריר רעיל
- ד. שולף את ציפורניו



### זוחלים (5) 700 נקודות

לזוחלים שיטות תנועה מגוונות. אילו מהמשפטים אינו נכון!

- א. תנין צעיר יכול ללכת הליכה גבוה כמו היונקים.
- ב. האנוליס (לטאה) יכול לנתר.
- ג. נחשים חסרי גפיים שוחים ע"י הנעת גופם.
- ד. הזיקית לופתת ענפים באמצעות האצבעות.
- ה. הממבה השחורה (הנחש המהיר בעולם) הולך על גפיו.



### זוחלים (6) 1000 נקודות

המאפיין העיקרי של הזוחלים הוא:

- א. ראש מחודד
- ב. קשקשים המכסים את גופם
- ג. ראייה חדה
- ד. נשימה איטית



### עופות (1) 100 נקודות

איזה מהחיות הבאות איננו שייך למחלקת הזוחלים?

- א. צב
- ב. תנין
- ג. נחש
- ד. תולעת
- ה. לטאה



### עופות (2) 200 נקודות

איזה מהחיות הבאות איננו שייך למחלקת הזוחלים?

- א. צב
- ב. תנין
- ג. נחש
- ד. תולעת
- ה. לטאה



### עופות (3)

**300 נקודות**

איזה מהחיות הבאות איננו שייך

למחלקת הזוחלים?

- א. צב
- ב. תנין
- ג. נחש
- ד. תולעת
- ה. לטאה



### עופות (4)

**500 נקודות**

איזה מהחיות הבאות איננו שייך

למחלקת הזוחלים?

- א. צב
- ב. תנין
- ג. נחש
- ד. תולעת
- ה. לטאה



### עופות (5)

**700 נקודות**

איזה מהחיות הבאות איננו שייך

למחלקת הזוחלים?

- א. צב
- ב. תנין
- ג. נחש
- ד. תולעת
- ה. לטאה



### עופות (6)

**1000 נקודות**

איזה מהחיות הבאות איננו שייך

למחלקת הזוחלים?

- א. צב
- ב. תנין
- ג. נחש
- ד. תולעת
- ה. לטאה



### יונקים (1)

**100 נקודות**

איזה מהחיות הבאות איננו שייך

למחלקת הזוחלים?

- א. צב
- ב. תנין
- ג. נחש
- ד. תולעת
- ה. לטאה



### יונקים (2)

**200 נקודות**

איזה מהחיות הבאות איננו שייך

למחלקת הזוחלים?

- א. צב
- ב. תנין
- ג. נחש
- ד. תולעת
- ה. לטאה



### יונקים (3)

**300 נקודות**

איזה מהחיות הבאות איננו שייך

למחלקת הזוחלים?

- א. צב
- ב. תנין
- ג. נחש
- ד. תולעת
- ה. לטאה



### יונקים (4)

**500 נקודות**

איזה מהחיות הבאות איננו שייך

למחלקת הזוחלים?

- א. צב
- ב. תנין
- ג. נחש
- ד. תולעת
- ה. לטאה



### חרקים (2)

**200 נקודות**

איזה מהחיות הבאות איננו שייך

למחלקת הזוחלים?

- א. צב
- ב. תנין
- ג. נחש
- ד. תולעת
- ה. לטאה



### חרקים (1)

**100 נקודות**

איזה מהחיות הבאות איננו שייך

למחלקת הזוחלים?

- א. צב
- ב. תנין
- ג. נחש
- ד. תולעת
- ה. לטאה



### יונקים (6)

**1000 נקודות**

איזה מהחיות הבאות איננו שייך

למחלקת הזוחלים?

- א. צב
- ב. תנין
- ג. נחש
- ד. תולעת
- ה. לטאה



### יונקים (5)

**700 נקודות**

איזה מהחיות הבאות איננו שייך

למחלקת הזוחלים?

- א. צב
- ב. תנין
- ג. נחש
- ד. תולעת
- ה. לטאה



### חרקים (6)

**1000 נקודות**

איזה מהחיות הבאות איננו שייך

למחלקת הזוחלים?

- א. צב
- ב. תנין
- ג. נחש
- ד. תולעת
- ה. לטאה



### חרקים (5)

**700 נקודות**

איזה מהחיות הבאות איננו שייך

למחלקת הזוחלים?

- א. צב
- ב. תנין
- ג. נחש
- ד. תולעת
- ה. לטאה



### חרקים (4)

**500 נקודות**

איזה מהחיות הבאות איננו שייך

למחלקת הזוחלים?

- א. צב
- ב. תנין
- ג. נחש
- ד. תולעת
- ה. לטאה



### חרקים (3)

**300 נקודות**

איזה מהחיות הבאות איננו שייך

למחלקת הזוחלים?

- א. צב
- ב. תנין
- ג. נחש
- ד. תולעת
- ה. לטאה



### דו חיים (4)

**500 נקודות**

איזה מהחיות הבאות איננו שייך

למחלקת הזוחלים?

- א. צב
- ב. תנין
- ג. נחש
- ד. תולעת
- ה. לטאה



### דו חיים (3)

**300 נקודות**

איזה מהחיות הבאות איננו שייך

למחלקת הזוחלים?

- א. צב
- ב. תנין
- ג. נחש
- ד. תולעת
- ה. לטאה



### דו חיים (2)

**200 נקודות**

איזה מהחיות הבאות איננו שייך

למחלקת הזוחלים?

- א. צב
- ב. תנין
- ג. נחש
- ד. תולעת
- ה. לטאה



### דו חיים (1)

**100 נקודות**

איזה מהחיות הבאות איננו שייך

למחלקת הזוחלים?

- א. צב
- ב. תנין
- ג. נחש
- ד. תולעת
- ה. לטאה



### דו חיים (6)

**1000 נקודות**

איזה מהחיות הבאות איננו שייך

למחלקת הזוחלים?

- א. צב
- ב. תנין
- ג. נחש
- ד. תולעת
- ה. לטאה



### דו חיים (5)

**700 נקודות**

איזה מהחיות הבאות איננו שייך

למחלקת הזוחלים?

- א. צב
- ב. תנין
- ג. נחש
- ד. תולעת
- ה. לטאה



## ✂ כרטיסיות התשובות

<h3>תשובות עופות</h3>	<h3>תשובות זוחלים</h3>
<p>שאלה (1) – ד. תולעת</p> <p>שאלה (2) – ג. צב רגליים</p> <p>שאלה (3) – א. ניתן לקבוע את גילם באמצעות ספירת מגני הקרן.</p> <p>שאלה (4) – ב. מתחבא ויורד אל מתחת לקרקע או אל בין העצים.</p> <p>שאלה (5) – ה. הממבה השחורה (הנחש המהיר בעולם) הולך על גפיו [לנחש אין גפיים].</p> <p>שאלה (6) – ב. קשקשים המכסים את גופם</p>	<p>שאלה (1) – ד. תולעת</p> <p>שאלה (2) – ג. צב רגליים</p> <p>שאלה (3) – א. ניתן לקבוע את גילם באמצעות ספירת מגני הקרן.</p> <p>שאלה (4) – ב. מתחבא ויורד אל מתחת לקרקע או אל בין העצים.</p> <p>שאלה (5) – ה. הממבה השחורה (הנחש המהיר בעולם) הולך על גפיו [לנחש אין גפיים].</p> <p>שאלה (6) – ב. קשקשים המכסים את גופם</p>
<h3>תשובות דו חיים</h3>	<h3>תשובות יונקים</h3>
<p>שאלה (1) – ד. תולעת</p> <p>שאלה (2) – ג. צב רגליים</p> <p>שאלה (3) – א. ניתן לקבוע את גילם באמצעות ספירת מגני הקרן.</p> <p>שאלה (4) – ב. מתחבא ויורד אל מתחת לקרקע או אל בין העצים.</p> <p>שאלה (5) – ה. הממבה השחורה (הנחש המהיר בעולם) הולך על גפיו [לנחש אין גפיים].</p> <p>שאלה (6) – ב. קשקשים המכסים את גופם</p>	<p>שאלה (1) – ד. תולעת</p> <p>שאלה (2) – ג. צב רגליים</p> <p>שאלה (3) – א. ניתן לקבוע את גילם באמצעות ספירת מגני הקרן.</p> <p>שאלה (4) – ב. מתחבא ויורד אל מתחת לקרקע או אל בין העצים.</p> <p>שאלה (5) – ה. הממבה השחורה (הנחש המהיר בעולם) הולך על גפיו [לנחש אין גפיים].</p> <p>שאלה (6) – ב. קשקשים המכסים את גופם</p>



## תשובות חרקים

שאלה (1) – ד. תולעת

שאלה (2) – ג. צב רגליים

שאלה (3) – א. ניתן לקבוע את גילם באמצעות ספירת מגני הקרן.

שאלה (4) – ב. מתחבא ויורד אל מתחת לקרקע או אל בין העצים.

שאלה (5) – ה. הממבה השחורה (הנחש המהיר בעולם)

הולך על גפיו [לנחש אין גפיים].

שאלה (6) – ב. קשקשים המכסים את גופם